

Mathematik 6b - Herr Wonneberger

Arbeitsaufträge vom 19.04. bis 30.04.2021



Falls ihr noch nicht alle Arbeitsaufträge vom 8.4. bis 16.4.2021 geschafft habt, macht ihr diese zuerst ordentlich fertig!

Arbeitsblatt 11 (AB 11):

Drucke das Arbeitsblatt 11 aus oder schreibe die Aufgaben ordentlich ins Heft ab und bearbeite sie dann. Benutze auch ein Lineal oder Geo-Dreieck!

Arbeitsblatt 12 (AB 12):

Drucke auch das Arbeitsblatt 12 aus oder schreibe die Aufgaben ordentlich ins Heft ab und bearbeite sie dann. Benutze auch ein Lineal oder Geo-Dreieck!

Schriftlich Addieren und Subtrahieren

1. a)	9 5,8 4	b)	7 5,0 9	c)	1 2 7,8 4	d)	4 2 2,7 5
	+ 3 6,7 9		+ 3 8,7 5		+ 2 9 2,3 7		+ 2 9 4,3 9


2. a)	1 9 5,7 4	b)	5 8 3,7 4	c)	2 4 5,5 7 8	d)	1 3 7 6,7 8 2
	+ 2 8 3,5 2		+ 2 8 5,3 9		+ 3 4 2,2 8 3		+ 2 9 5,3 8 4
	+ 1 2 4,2 6		+ 4 1 2,9 8		+ 1 9 6,4 8 5		+ 5 7 2,9 7 6

3. a)	9 2,8 4	b)	8 7,8 4	c)	2 7 6,3 7	d)	2 6 7 1,5 4
	- 3 9,5 3		- 4 6,9 5		- 1 9 2,8 2		- 2 3 7,8 1

4. a)	7 8 5,8 9	b)	9 7 2,3 2	c)	7 7 7,7 7 7	d)	2 7 9 4,3 4 2
	- 2 1 7,4 3		- 5 3 9,8 4		- 3 8 8,3 8 8		- 1 8 7 2,3 4 9
	- 1 1 2,9 4		- 2 7 5,7 5		- 2 7 7,2 7 7		- 6 5 3,8 2 1

5. a)	1 9 3,4	b)	5 7 8,1	c)	1 8 0 9	d)	2 7 4 3
	- 7 8,5 3		- 2 9 3,5 6		- 8 3 2,7		- 1 2 4 1,3

Färbe die richtigen Ergebnisse, du erhältst ein Lösungswort.



83,55
717,14
420,21
2433,73
7,1501
92,845
1607,4

40,89
2245,142
283,74
114,87
455,55
128,98
856,93

156,73
483,11
112,112
784,346
976,9
53,31
675,48

156,83
11,2821
284,54
1382,44
221,892
132,63
603,52

Begib dich in den Rechentunnel. Für einige Aufgaben benötigst du ein Rechenblatt. Löse an jeder Station die Aufgaben. Der Ausgang öffnet sich nur bei richtiger Lösung

EINGANG

1.

	7	8,5	6
+	7	2,3	9


3. Schreibe die Zahlen 123,75 und 84,7 untereinander und addiere.

4.

	1	4	8,7	3
+	2	4	7,0	5
+	4	8	2,7	5

2.

	9	5,7	2
-	6	8,0	4



5. Subtrahiere die kleinere von der größeren Zahl: 96,75 und 133,94

6.

	9	7	2,8	5	3
-	2	4	7,2	5	9
-	3	1	9,8	4	2

8.

	2	1	8,6	
-	1	5	2,8	4

7. $712,3 + 217,84 + 92,7 =$

10.

-	3	8	6,4				

$\square - 386,4 = 124,83$


9. $192,74 - \square = 19,5$

11. Streiche 10 gefundene Ergebnisse:

208,45	173,24	878,53	548,77
451,23	150,95	1022,84	405,752
65,76	27,68	37,19	511,23

12. Berechne die Summe der zwei nicht gestrichenen Zahlen.

AUSGANG



1000